

Erdkundeaufgaben zur eigenen Bearbeitung zu Hause, für die Wochen bis zu den Osterferien. Die Zeit, in der du die Aufgaben bearbeitest, kannst du dir selbst einteilen.

Thema: Die Savanne – Klimadiagramme – Supermarkt Savanne – Anbau für die Welt

Für die Beantwortung der Fragen lies dir bitte alle Infotexte durch. Du kannst dir natürlich auch noch weitere Informationen über das Internet und Filme auf Youtube anschauen!

Aufgabenteil 1 Klimadiagramme

Zeichne zu folgenden Daten ein **Klimadiagramm!**

Es muss so aussehen, wie das Klimadiagramm in der Datei: „**Info Klimadiagramm**“!

1 Mittlere Temperatur- und Niederschlagswerte von Stuttgart-Echterdingen (1971 – 2000)

Monat	Jan.	Feb.	März	April	Mai	Juni	Juli	Aug.	Sep.	Okt.	Nov.	Dez.	Jahr
Temperatur	0	1	4	8	13	16	18	17	14	9	4	1	9°C
Niederschlag	44	42	44	61	82	96	70	79	57	43	55	57	720mm

Auf der nächsten Seite geht es weiter!

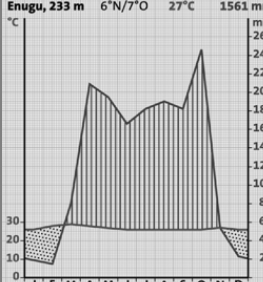

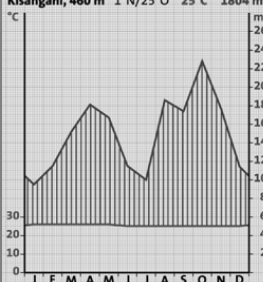

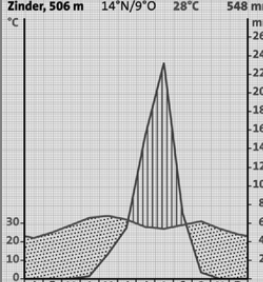

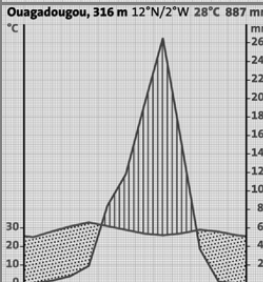

Aufgabenteil 2 Arbeitsblatt: „Savanne ist nicht gleich Savanne KV 06“

3 Savannen
Savanne ist nicht gleich Savanne

KV 06

Ordne den Texten das entsprechende **Klimadiagramm** und die passende **Landesbezeichnung** zu!

TIPP: Schau dir den **Infotext:** Info 1 Savanne und Info 2 Savanne an!

<p>In der Dornsavanne herrscht eine Jahresdurchschnittstemperatur von 21–28 °C. Die Jahresniederschläge betragen 250–500 mm. Die Regenzeit ist nur schwach ausgeprägt und dauert 4 ½ – 2 Monate.</p>	<p>Enugu, 233 m 6°N/7°O 27°C 1561 mm</p> 	
<p>In der Trockensavanne herrscht eine Jahresdurchschnittstemperatur von 21–28 °C. Die Jahresniederschläge betragen zwischen 500 und 1000 mm. Die Regenzeit dauert 7– 4 ½ Monate.</p>	<p>Kisangani, 460 m 1°N/25°O 25°C 1804 mm</p> 	
<p>In der Feuchtsavanne herrscht eine Jahresdurchschnittstemperatur von 23–28 °C. Die Jahresniederschläge betragen 1000 bis 2000 mm. Die Regenzeit dauert 9 ½ –7 Monate.</p>	<p>Zinder, 506 m 14°N/9°O 28°C 548 mm</p> 	
<p>Im Tropischen Regenwald herrscht eine Jahresdurchschnittstemperatur von ca. 25–28 °C. Die Jahresniederschläge betragen mindestens 1500 mm. Da das ganze Jahr gleichmäßig hohe Temperaturen und Niederschläge herrschen, gibt es keine Jahreszeiten.</p>	<p>Ouagadougou, 316 m 12°N/2°W 28°C 887 mm</p> 	

Name: _____ Klasse: _____ Datum: _____



Aufgabenteil 3 Infotext: „Supermarkt Savanne“!

Lies dir den **Infotext** (Supermarkt Savanne) durch und **schreibe** eine **Zusammenfassung**!

Aufgabenteil 4 Infotext: „Anbau für die Welt“!

Lies dir den **Infotext** (Anbau für die Welt) durch und **schreibe** eine **Zusammenfassung**!